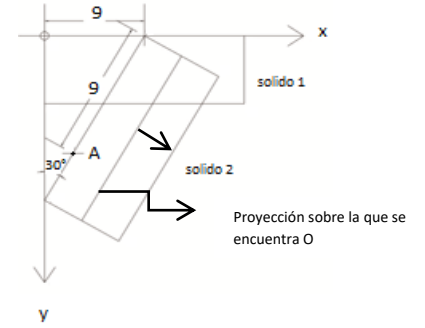
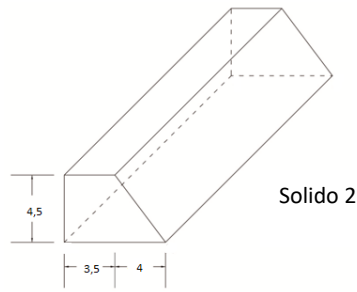
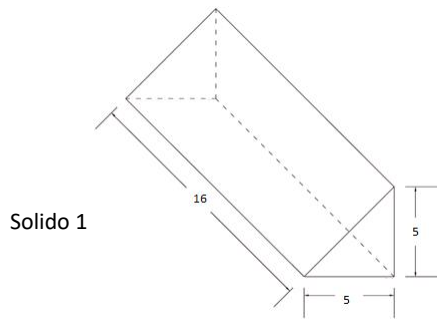


Dados los sólidos **1**, **2** y **3**, y el patrón de ensamblaje, dibuje el conjunto formado por los sólidos **1** y **2**, e indique el vacío que deja el sólido **3**.



**3:** Pirámide recta de base cuadrada **ABCD**, altura 10, apoyada en el Plano Horizontal de Proyección, cuyo centro **O** tiene coordenadas (?; 12,5; 0)

Proyección Oblicua Horizontal ( $W=120^\circ / q=1$ )

Escala: 1=100 / Unidad: m

Origen a 9 y 7 unidades del borde izquierdo y superior respectivamente - Lámina Vertical